

• Dictée de nombres :

Exercice 1 : Décompose les nombres comme dans


l'exemple →  $639 = 600 + 30 + 9$

$$170 = 100 + 70$$

$$931 = 900 + 30 + 1$$

$$603 = 600 + 3$$

Exercice 2 : Dessine les centaines, dizaines et  
unités du nombre 437



Exercice 3 : Sur ton cahier du jour, pose en  
colonne les additions suivantes :

a)  $735 + 121 = ?$

$$\begin{array}{r} \text{a)} \quad 735 \\ + \quad 121 \\ \hline 856 \end{array}$$

b)  $347 + 218 = ?$

$$\begin{array}{r} \text{b)} \quad \textcircled{1} \\ \quad 347 \\ + \quad 218 \\ \hline 565 \end{array}$$



Dictée de nombres :

Exercice 1 : Décompose les nombres comme dans

l'exemple  $\rightarrow 639 = 600 + 30 + 9$


$$115 = 100 + 10 + 5$$

$$762 = 700 + 60 + 2$$

$$805 = 800 + 5$$

Exercice 2 : Dessine les centaines, dizaines et

unités du nombre 378 :



Exercice 3 : Sur ton cahier du jour, pose en

colonne les additions suivantes :

$$a) 402 + 230 = ?$$

$$\begin{array}{r} a) 402 \\ + 230 \\ \hline 632 \end{array}$$

$$b) 539 + 238 = ?$$

$$\begin{array}{r} b) \textcircled{1} 539 \\ + 238 \\ \hline 777 \end{array}$$



• Dictée de nombres :

Exercice 1 : Décompose les nombres comme dans

l'exemple  $\rightarrow 639 = 600 + 30 + 9$

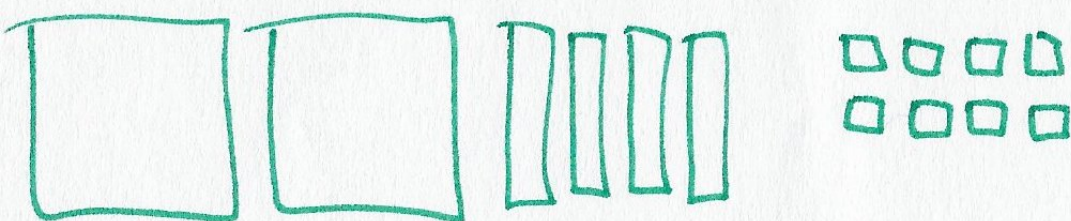
$$161 = 100 + 60 + 1$$

$$480 = 400 + 80$$

$$508 = 500 + 8$$

Exercice 2 : Dessine les centaines, dizaines et

unités du nombre 248 :



Exercice 3 : Sur ton cahier du jour, pose en  
colonne les additions suivantes :

a)  $192 + 202 = ?$

$$a) \begin{array}{r} 192 \\ + 202 \\ \hline \end{array}$$

$$b) \begin{array}{r} 329 \\ + 238 \\ \hline \end{array}$$

b)  $329 + 238 = ?$

$$+ \begin{array}{r} 202 \\ \hline 394 \end{array}$$

$$\begin{array}{r} 329 \\ + 238 \\ \hline 567 \end{array}$$



Dictée de nombres :


Exercice 1 : Décompose les nombres comme dans l'exemple →  $639 = 600 + 30 + 9$

$$165 = 100 + 60 + 5$$

$$470 = 400 + 70$$

$$207 = 200 + 7$$

Exercice 2 : Dessine les centaines, dizaines et unités du nombre 285 :



Exercice 3 : Sur ton cahier du jour, pose en colonne les additions suivantes :

a)  $245 + 121 = ?$

$$\begin{array}{r} a) \quad 245 \\ + 121 \\ \hline 366 \end{array}$$

$$\begin{array}{r} b) \quad 702 \\ + 149 \\ \hline 851 \end{array}$$

b)  $702 + 149 = ?$



Dictée de nombres :


Exercice 1 : Décompose les nombres comme dans l'exemple →  $639 = 600 + 30 + 9$

$$152 = 100 + 50 + 2$$

$$836 = 800 + 30 + 6$$

$$207 = 200 + 7$$

Exercice 2 : Dessine les centaines, dizaines et unités du nombre 347 :



Exercice 3 : Sur ton cahier du jour, pose en colonne les additions suivantes :

a)  $243 + 532 = ?$

$$\begin{array}{r} 243 \\ + 532 \\ \hline 775 \end{array}$$

b)  $279 + 209 = ?$

$$\begin{array}{r} \textcircled{1} \\ 279 \\ + 209 \\ \hline 488 \end{array}$$